



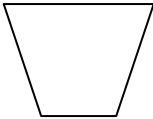
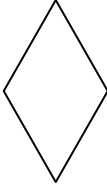
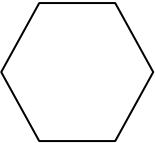
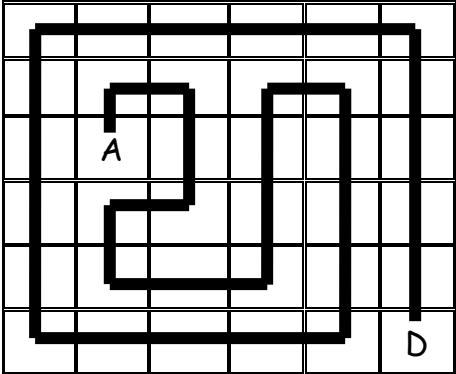


11 juin 2015

Numéro de problème	Réponses
<p>1 Le plus grand nombre qui reste est :</p>	<p style="text-align: center;">9 8 9 2 0</p>
<p>2 Comment Paul a-t-il réparti les poids ?</p>	
<p>3 L'addition complétée est :</p>	$ \begin{array}{r} . 4 . \quad . 8 . \quad . 7 . \\ + \quad . 5 . \quad . 3 . \quad 9 \\ \hline . 1 . \quad . 0 . \quad 2 \quad . 6 . \end{array} $
<p>4 Les couleurs des 6 figures sont :</p>	<div style="display: flex; justify-content: space-around; align-items: flex-end;"> <div style="text-align: center;">  Cercle Jaune </div> <div style="text-align: center;">  Triangle Bleu </div> <div style="text-align: center;">  Carré Rouge </div> <div style="text-align: center;">  Trapèze Vert </div> <div style="text-align: center;">  Losange Violet </div> <div style="text-align: center;">  Hexagone Blanc </div> </div>
<p>5 Le parcours passant par les 36 cases en faisant le minimum de virages est :</p>	

6

IL reste dans la
carafe :

15 cL

7

Le nombre cherché
est :
. 90 .

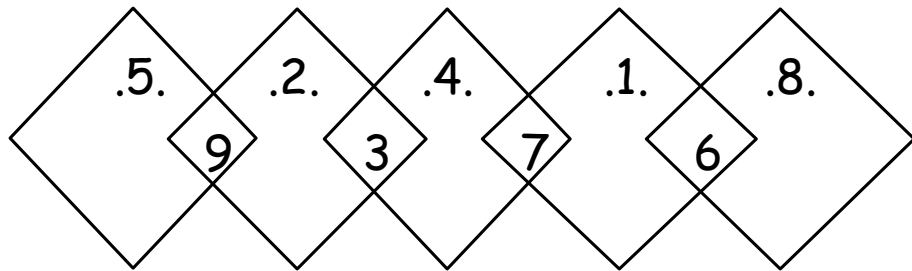
« Au collège St Joseph de Machecoul, il y a

Quatre-vingt-dix

professeurs, autant que de lettres dans cette phrase »

8

Les 5 grands carrés
remplis par
une somme de 14 :



9

Votre produit le
plus grand est:

90

8	7	1	56
5	3	6	90
2	4	9	72
80	84	54	

10

Avez-vous bien
formé une
pyramide ?