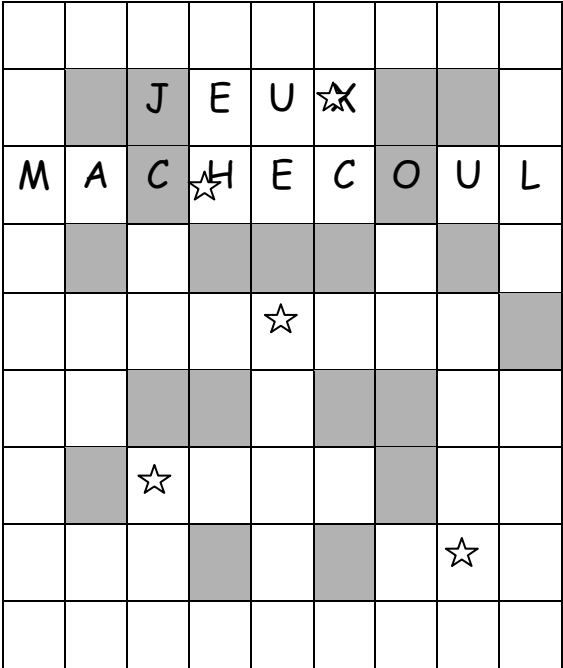

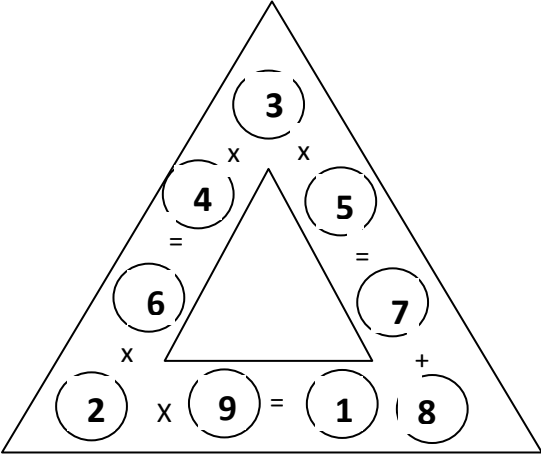


Numéro de problème	Réponses
<p>1</p> <p>Le nom de famille des 3 filles est :</p>	<p>Anne ROBINSON Béatrice MARTIN Charlotte DUPONT</p>
<p>2</p> <p>Scrabble</p> <p>Jeux : $16+1+4+30 = 51$ pts</p> <p>Machecoul : $2+1+4+24+1+2+4+4+2 = 44$ pts</p>	
<p>3</p> <p>Le (ou les) mot(s) dont le score est 630 :</p>	<p>CUBE (3x21x2x5 = 630)</p>
<p>4</p> <p>A quoi est égal ?</p>	
<p>5</p> <p>Les valeurs des 2 pièces sont :</p>	<p>10 et 20 centimes</p>

Numéro de problème	Réponses
<p>6</p> <p>Le diagramme complet est:</p>	
<p>7</p> <p>Nombre de cercles ?</p>	<p>En tout il y a 21+20+24 = 65 cercles.</p>
<p>8</p> <p>Combien de semaines ?</p>	<p>Il faudra au minimum 6 semaines</p>
<p>9</p> <p>Quel est ce nombre ?</p>	<p>Le nombre entier cherché est : 319</p>